
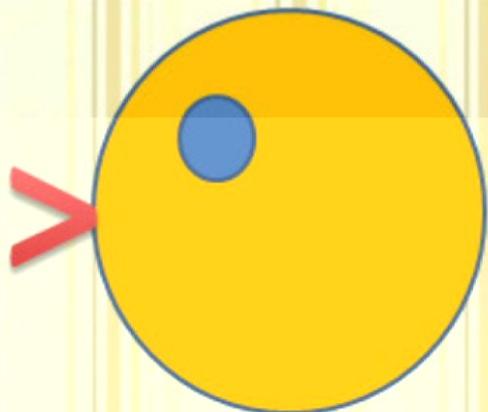


Равенство.
Неравенство.
С48-49

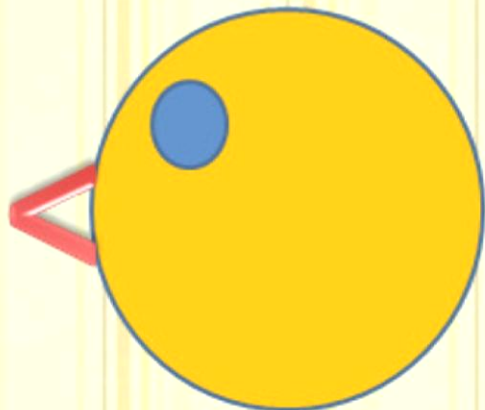


УСТНЫЙ СЧЁТ





больше




меньше

2 хорошеньких утёнка
За мячом бегут вдогонку.
3 хотят кота поймать,
А утят всего здесь – ...!



5



Увеличь числа на 2.



Составь задачу.

$$\square + \square = \square$$



Найди ошибки.



$$7 > 6$$

$$4 < 1$$

$$3 < 8$$

$$5 > 9$$

$$1 < 3$$

$$7 < 7$$

**УЧИМСЯ МЫСЛИТЬ
И РАССУЖДАТЬ**



А

~~Л~~



а и с т





**Мы читали, мы считали,
А теперь тихонько встали.
Раз – присели, два –
нагнулись,
На носочках потянулись.
Руки ставим на бочок:
На носочках скок, скок, скок.
А теперь все тихо сели,
Продолжаем наш урок.**

Физминутка

НОВЫЙ МАТЕРИАЛ





$$1 + 2$$

3

<

4

<

4

$$3 - 1 = 2$$

равенство

$$4 - 1 > 1$$

неравенство



$$3 - 1 = 2$$

$$4 - 1 > 1$$

$$5 - 1 < 5$$

$$4 + 1 = 5$$



$$3 + 1 > 2$$

$$1 + 1 = 2$$

Заселяем дома.



РАБОТА ПО УЧЕБНИКУ



Равенство. Неравенство.

С48-49



Равенства:

$$4 = 4$$

$$4 + 1 = 5$$

Неравенства:

$$4 > 3$$

$$4 - 1 < 4$$

Прочитай сначала равенства, а затем неравенства.

$$3 - 1 = 2$$

$$5 - 1 < 5$$

$$3 + 1 > 2$$

$$4 - 1 > 1$$

$$4 + 1 = 5$$

$$1 + 1 = 2$$

$$4 \bigcirc 3$$

$$5 \bigcirc 2$$

$$1 + 2 \bigcirc 3$$

$$\square > \square$$

$$3 \bigcirc 4$$

$$3 \bigcirc 5$$

$$5 - 3 \bigcirc 2$$

$$\square < \square$$

У Миши такая монета:



У Коли такие монеты:



У кого из них больше монет?

У кого из них больше рублей?

У Лены




У Веры



Сколько всего кукол у Лены и у Веры?

Выбери для каждого рисунка подходящую запись.



- $4 + 1$
- $4 - 1$
- $5 - 1$
- $3 + 1$
- $3 + 2$

